

Акрашев Русман 9 класс

	Тембрная	заготовки
1) б -	2) д -	13) д -
2) а ф	3) д ф	14) а, ф
3) 2 ф	4) а -	15) а, б, 2 ф
4) б -	5) б ф	16) б, 2, ф
5) б -	6) д -	17) д -
1) а ф	12) а, г ф	18) г -

85

135.

- 1) вводный курс + 65
- 2) т. повторовник + 65
- 3) Державина + 65
- 4) Три реперитории поэзии Бюгера и миссия Шлегеля неогерменит.
- 5) поэзия романтизма и поэтика / поэтика романтизма, романтизм, депрессия, кризис и миссия + 65.

305.

175

Всероссийская олимпиада
 по ОБЖ ученика 6 "В" класса
 Васильев Никита Александрович
 14.01.2011.

- | | | |
|------------------|------------|----------------------|
| 1) б + | 14) б, в + | 1) 1, 2, 3 + |
| 2) б + | 15) а, в + | 2) всегда оставаться |
| 3) 0 + | | 400 |
| 4) б + | | избежать опасных |
| 5) 0 + | | ситуаций, + |
| 6) б + | | 3) 1, 2, + |
| 7) а + | | 4) - |
| 8) 0 + | | |
| 9) 0 + | | |
| 10) а + | | |
| 11) 0, 1, 2 + | | |
| 12) 0, б + | | |
| 13) 0, б, 2, 0 + | | |

615

~~185~~

Вариант 19

- 1) Б — 6) Б — 11) d, g, B + 16) Г, d —
- 2) d + 7) B + 12) B, g + 17) d, g +
- 3) B + 8) B — 13) d, g, d + 18) B —
- 4) Г + 9) d — 14) B, Г, g + 19) d, d, Г, g —
- 5) A + 10) B + 15) d, B, g + 20) d, B, d +

125.
185.

- 1) шина —
- 2) перелок, бабка + 68.
- 3) з + 68.
- 4) котел на огне и руче. 68.
- 5) Влѣ, тунь
- 6) ~~А-стоп~~ Глазкая
- - стоп
- ▲ - пролог дальше
- ! - опасность + 68.
- ⊙ - осторожно —

24.
47

ЗАДАНИЯ ТЕОРЕТИЧЕСКОГО ТУРА

№ п/п	Открытые задания	Макс. балл	Кол-во набранных баллов												
1	<p>Вставьте пропущенные слова: Опасная ситуация – это <u>4.</u> обстановка, в которой действуют <u>1.</u> факторы различной природы, угрожающие <u>2.</u>, жизни человека, его <u>3.</u> и среде обитания. (1. вредные, 2. здоровью, 3. имуществу, 4. неблагоприятная)</p>	8	8												
2	<p>Расставьте правильно последовательность букв, и вы узнаете одно из основополагающих правил безопасности:</p> <table style="width: 100%; border-collapse: collapse;"> <tr> <td style="border: 1px solid black; padding: 2px;">г с е в д а</td> <td style="border: 1px solid black; padding: 2px;">ь т с р а т с а я</td> </tr> <tr> <td style="border: 1px solid black; padding: 2px;">в с с г д е</td> <td style="border: 1px solid black; padding: 2px;">л т а р а т в с л</td> </tr> <tr> <td style="border: 1px solid black; padding: 2px;">и г б е з а т ь</td> <td style="border: 1px solid black; padding: 2px;">с п а о н ы х</td> </tr> <tr> <td style="border: 1px solid black; padding: 2px;">а з б е с а т о</td> <td style="border: 1px solid black; padding: 2px;">о п а с н ы е</td> </tr> <tr> <td style="border: 1px solid black; padding: 2px;">и й т у а с й и</td> <td></td> </tr> <tr> <td style="border: 1px solid black; padding: 2px;">с а т у а с и я</td> <td></td> </tr> </table>	г с е в д а	ь т с р а т с а я	в с с г д е	л т а р а т в с л	и г б е з а т ь	с п а о н ы х	а з б е с а т о	о п а с н ы е	и й т у а с й и		с а т у а с и я		8	8
г с е в д а	ь т с р а т с а я														
в с с г д е	л т а р а т в с л														
и г б е з а т ь	с п а о н ы х														
а з б е с а т о	о п а с н ы е														
и й т у а с й и															
с а т у а с и я															
3	<p>Укажите единый номер вызова экстренных оперативных служб и порядок сообщения информации в экстренную оперативную службу: <u>112, 1-адрес, 2-р-ко, 3-ситуация, 4-ответ на вопрос</u></p>	8	8												
4	<p>Собираясь в любой поход, надо обязательно взять с собой аптечку первой помощи. Что нужно собрать в аптечке первой помощи? <u>бинты, перекись, пластырь, йод, жгут, нож, топор, лекарства</u></p>	8	4												
5	<p>Велосипедист – полноправный участник дорожного движения. С какого возраста велосипедисту разрешается двигаться по проезжей части и в каком направлении по отношению к движущемуся транспорту? <u>с 14 лет, навстречу машинам</u></p>	8	4												

№ п/п	Тестовые задания	Макс. балл	Кол-во набранных баллов
Определите один правильный ответ			

325
28
608

1.	<p>Что необходимо сделать с раной перед наложением давящей повязки?</p> <p>А. Промыть рану водой и обработать ее зеленкой; Б. Обработать рану йодом; <input checked="" type="radio"/> В. Обработать рану перекисью водорода, края раны йодом или зеленкой</p>	4	—
2.	<p>Допустимая толщина льда при передвижении по нему группы людей должна быть:</p> <p><input checked="" type="radio"/> А. Не менее 15 см.; Б. Не менее 7 см.; В. Не менее 12 см.</p>	4	—
3.	<p>Пешеход не успевший закончить переход проезжей части дороги до начала возобновления движения транспортных средств, должен:</p> <p>А. Вернуться назад <input checked="" type="radio"/> Б. Остановиться на осевой линии или островке безопасности, разделяющей транспортные потоки противоположных направлений В. Закончить переход дороги</p>	4	4
4.	<p>Какого цвета должна быть верхняя одежда туриста?</p> <p>А. Однотонного цвета; Б. Из камуфлированного материала; <input checked="" type="radio"/> В. Яркая, демаскирующая.</p>	4	4
5.	<p>В толпе рекомендуется руки держать</p> <p><input checked="" type="radio"/> А. Перед грудью Б. Согнутыми в локтях В. В карманах</p>	4	—
6.	<p>Как действовать при возгорании телевизора?</p> <p>А. Обеспечить доступ воздуха <input checked="" type="radio"/> Б. Сразу после возгорания залить телевизор водой В. Быстро обесточить телевизор</p>	4	—
7.	<p>Как сушить одежду и обувь на привале после дождя?</p> <p><input checked="" type="radio"/> А. сделаю сушилку из жердей недалеко от костра Б. сделаю навес над костром В. буду сушить на себе Г. буду сушить одежду и обувь в руках над костром</p>	4	4
8.	<p>Что необходимо сделать потерпевшему бедствие при аварии транспортного средства в первую очередь?</p> <p>А. следует вызвать экстренные службы <input checked="" type="radio"/> Б. перебраться в безопасное место. А также оказать первую медицинскую помощь пострадавшим В. покидая транспортное средство, взять с собой имущество, которое может пригодиться для автономного существования Г. Ориентироваться на местности и уточнить своё местонахождение, а при неблагоприятных климатических условиях соорудить временное укрытие</p>	4	4
9.	<p>При движении поезда в вашем вагоне появился запах гари и дыма. Как вы будете действовать?</p> <p>А. пойдете по соседним купе и будете сообщать пассажирам <input checked="" type="radio"/> Б. сообщите проводнику, соберете вещи и будете ждать дальнейших указаний в купе В. дернете за рукоятку стоп-крана</p>	4	4
10.	<p>С каким оттенком лёд считается прочным:</p> <p><input checked="" type="radio"/> А. прозрачный, с зеленоватым или синеватым оттенком</p>	4	4

дополнительно 5А

	Б. с молочным оттенком В. прозрачный, с фиолетовым оттенком Г. мутный, с серым оттенком		
Определите все правильные ответы			
11.	Укажите последовательность разведения костра. А. в любой последовательности Б. заготовить растопку (мелкие сухие веточки, дрова) <i>1</i> В. поджечь костер 2-3 спичками <i>3</i> Г. проложить на растопку мелкие ветки, поверх веток положить <i>2</i> поленя	4	<i>4</i>
12.	Укажите, какой вред может нанести пожар организму человека, находящегося в горящем помещении А. Получение ожогов <input checked="" type="checkbox"/> Б. Удушение В. Сгорание одежды	4	—
13.	Какие известны основные способы ориентирования на местности? А. По памяти Б. По растениям В. По небесным светилам <input checked="" type="checkbox"/> Г. По компасу Д. По признакам местных предметов	4	—
14.	При возникновении пожара вам нужно покинуть квартиру, находящуюся на 10-м этаже. Вы: А. воспользуетесь лифтом <input checked="" type="checkbox"/> Б. спуститесь по внешним или внутренним пожарным лестницам В. прикрывая дыхательные органы рукой, выйдете через подъезд	4	—
15.	При оказании первой помощи при солнечном ударе, необходимо: <input checked="" type="checkbox"/> А. перенести пострадавшего в прохладное место, в тень Б. уложить на спину, приподнять голову и повернуть ее набок В. дать попить прохладной воды	4	—
	ИТОГ	60	

1.	<p>Что необходимо сделать с раной перед наложением давящей повязки?</p> <p>А. Промыть рану водой и обработать ее зеленкой; Б. Обработать рану йодом; <input checked="" type="radio"/> В. Обработать рану перекисью водорода, края раны йодом или зеленкой</p>	4	4
2.	<p>Допустимая толщина льда при передвижении по нему группы людей должна быть:</p> <p><input checked="" type="radio"/> А. Не менее 15 см.; Б. Не менее 7 см.; В. Не менее 12 см.</p>	4	—
3.	<p>Пешеход не успевший закончить переход проезжей части дороги до начала возобновления движения транспортных средств, должен:</p> <p>А. Вернуться назад <input checked="" type="radio"/> Б. Остановиться на осевой линии или островке безопасности, разделяющей транспортные потоки противоположных направлений В. Закончить переход дороги</p>	4	4
4.	<p>Какого цвета должна быть верхняя одежда туриста?</p> <p>А. Однотонного цвета; Б. Из камуфлированного материала; <input checked="" type="radio"/> В. Яркая, демаскирующая.</p>	4	4
5.	<p>В толпе рекомендуется руки держать</p> <p>А. Перед грудью Б. Согнутыми в локтях <input checked="" type="radio"/> В. В карманах</p>	4	—
6.	<p>Как действовать при возгорании телевизора?</p> <p><input checked="" type="radio"/> А. Обеспечить доступ воздуха Б. Сразу после возгорания залить телевизор водой В. Быстро обесточить телевизор</p>	4	—
7.	<p>Как сушить одежду и обувь на привале после дождя?</p> <p><input checked="" type="radio"/> А. сделаю сушилку из жердей недалеко от костра Б. сделаю навес над костром В. буду сушить на себе Г. буду сушить одежду и обувь в руках над костром</p>	4	4
8.	<p>Что необходимо сделать потерпевшему бедствие при аварии транспортного средства в первую очередь?</p> <p>А. следует вызвать экстренные службы <input checked="" type="radio"/> Б. перебраться в безопасное место. А также оказать первую медицинскую помощь пострадавшим В. покидая транспортное средство, взять с собой имущество, которое может пригодиться для автономного существования Г. Сориентироваться на местности и уточнить своё местонахождение, а при неблагоприятных климатических условиях соорудить временное укрытие</p>	4	4
9.	<p>При движении поезда в вашем вагоне появился запах гари и дыма. Как вы будете действовать?</p> <p>А. пойдете по соседним купе и будете сообщать пассажирам <input checked="" type="radio"/> Б. сообщите проводнику, соберете вещи и будете ждать дальнейших указаний в купе В. дернете за рукоятку стоп-крана</p>	4	4
10.	<p>С каким оттенком лёд считается прочным:</p> <p>А. прозрачный, с зеленоватым или <u>синеватым оттенком</u></p>	4	4

ЗАДАНИЯ ТЕОРЕТИЧЕСКОГО ТУРА

№ п/п	Открытые задания	Макс. балл	Кол-во набранных баллов												
1	<p>Вставьте пропущенные слова: Опасная ситуация – это ^{4.} обстановка, в которой действуют ^{1.} факторы различной природы, угрожающие ^{2.} жизни человека, его ^{3.} и среде обитания. (1. вредные, 2. здоровью, 3. имуществу, 4. неблагоприятная)</p>	8	8												
2	<p>Расставьте правильно последовательность букв, и вы узнаете одно из основополагающих правил безопасности:</p> <table style="width: 100%; border-collapse: collapse;"> <tr> <td style="border: 1px solid black; padding: 2px;">г с е в д а</td> <td style="border: 1px solid black; padding: 2px;">ь т с р а т с а я</td> </tr> <tr> <td style="border: 1px solid black; padding: 2px;">в с е з д а</td> <td style="border: 1px solid black; padding: 2px;">с т а р а т ь с я</td> </tr> <tr> <td style="border: 1px solid black; padding: 2px;">и г б е з а т ь</td> <td style="border: 1px solid black; padding: 2px;">с п а о н ы х</td> </tr> <tr> <td style="border: 1px solid black; padding: 2px;">и з б е з а т ь</td> <td style="border: 1px solid black; padding: 2px;">о п а с н ы х</td> </tr> <tr> <td style="border: 1px solid black; padding: 2px;">и й т у а с й и</td> <td></td> </tr> <tr> <td style="border: 1px solid black; padding: 2px;">с и т у а ц и и</td> <td></td> </tr> </table>	г с е в д а	ь т с р а т с а я	в с е з д а	с т а р а т ь с я	и г б е з а т ь	с п а о н ы х	и з б е з а т ь	о п а с н ы х	и й т у а с й и		с и т у а ц и и		8	8
г с е в д а	ь т с р а т с а я														
в с е з д а	с т а р а т ь с я														
и г б е з а т ь	с п а о н ы х														
и з б е з а т ь	о п а с н ы х														
и й т у а с й и															
с и т у а ц и и															
3	<p>Укажите <u>единый номер</u> вызова экстренных оперативных служб и порядок сообщения информации в экстренную оперативную службу: <u>911</u></p>	8	—												
4	<p>Собираясь в любой поход, надо обязательно взять с собой аптечку первой помощи. Что нужно собрать в аптечке первой помощи? <u>лент, повязку, йод, таблетки</u></p>	8	4												
5	<p>Велосипедист – полноправный участник дорожного движения. С какого возраста велосипедисту разрешается двигаться по проезжей части и в каком направлении по отношению к движущемуся транспорту? <u>с 14 лет по направлению машины</u></p>	8	8												

№ п/п	Тестовые задания	Макс. балл	Кол-во набранных баллов
Определите один правильный ответ			

28536

 6248

	Б. с молочным оттенком В. прозрачный, с фиолетовым оттенком Г. мутный, с серым оттенком		
Определите все правильные ответы			
11.	Укажите последовательность разведения костра. А. в любой последовательности Б. заготовить растопку (мелкие сухие веточки, дрова) В. поджечь костер 2-3 спичками Г. проложить на растопку мелкие ветки, поверх веток положить поленья	4	4
12.	Укажите, какой вред может нанести пожар организму человека, находящегося в горящем помещении А. Получение ожогов Б. Удушье В. Сгорание одежды	4	4
13.	Какие известны основные способы ориентирования на местности? А. По памяти Б. По растениям В. По небесным светилам Г. По компасу Д. По признакам местных предметов	4	—
14.	При возникновении пожара вам нужно покинуть квартиру, находящуюся на 10-м этаже. Вы: А. воспользуетесь лифтом Б. спуститесь по внешним или внутренним пожарным лестницам В. прикрывая дыхательные органы рукой, выйдете через подъезд	4	—
15.	При оказании первой помощи при солнечном ударе, необходимо: А. перенести пострадавшего в прохладное место, в тень Б. уложить на спину, приподнять голову и повернуть ее набок В. дать попить прохладной воды	4	—
	ИТОГ	60	

N1

Майер Глеб

6 класс

1, 1, 2, 3. +

N2

Всегда старайся
избегать властных
ситуаций +

избегать властных
ситуаций

N3

001, 002, 003, 004. 112. +

N4

215.

Шестая часть

N1 б

2-в + 11-в.с -

3-а - 12-а б +

4-б + 13-б.в.г.д +

5-б - 14-б в +

6-в + 15-а в +

7-а +

8-б +

9-б +

10-в -

40.

615

1. Отметьте правильные действия при оказании доврачебной помощи при носовом кровотечении

а) Голову пострадавшего наклоняют вперед, а на нос в область переносицы прикладывают холод.

б) На рану накладывают стерильную салфетку, далее толстый слой ваты и все это фиксируют одной из специальных повязок.

в) Если пострадавший находится без сознания, то его укладывают на бок и транспортируют в этом же положении.

г) Для ослабления кровотечения накладывается пластырь с тампоном, пострадавший укладывается на спину и транспортируется в лечебное учреждение

2. Если во время движения на маршруте вы заблудились и не можете найти свои следы, то необходимо:

а) остановиться и оценить ситуацию, искать тропу или дорогу, ручей или реку;

б) найти возвышенное место и оглядеться, а затем двигаться в направлении захода солнца;

в) прислушаться к звукам, чтобы потом двигаться подальше от дорог или рек;

г) найти созвездие Ориона и по его Полярной звезде искать север.

3. Как называют крупную аварию, повлекшую за собой человеческие жертвы, значительный материальный ущерб и другие тяжелые последствия?

а) производственная катастрофа

б) производственное бедствие

в) производственная авария;

г) производственный риск.

4. При аварии на химически опасном объекте произошла утечка хлора. Нужно срочно покинуть:

а) площади.

б) широкие улицы.

в) низкие места.

г) верхние этажи.

5. Как называется удаление радиоактивных веществ с заражённых объектов, которое исключает поражение людей и обеспечивает их безопасность:

а) санитарная обработка.

б) дезактивация.

в) дезинфекция.

г) дегазация.

6. Граждане Российской Федерации за осуществление террористической деятельности несут

а) административную ответственность

б) уголовную ответственность

в) гражданско-правовую ответственность

г) материальную ответственность

7. Укажите явный признак венозного кровотечения:

а) кровь вытекает пульсирующей струёй.

б) кровь пассивно истекает из раны.

в) кровь имеет алый цвет.

8. Какой узел является схватывающим?

а) стремя

- f б) прусик
в) проводник
г) штык

9. С какого мероприятия начинается оказание первой помощи пострадавшему?

- f а) определение состояния пострадавшего
 б) выполнение обзорного осмотра пострадавшего
 в) выполнение подробного осмотра пострадавшего
 г) оценка обстановки и создание безопасных условий для оказания первой помощи

10. В случае получения ранения проводится экстренная иммунопрофилактика следующего инфекционного заболевания:

- f а) полиомиелит;
 б) столбняк;
в) сибирская язва;
г) туберкулез

185.

Определите все правильные ответы.
За правильный ответ начисляется 3 балла.

11. К общим признакам острой кровопотери относятся:

- f а) боль в месте травмы;
 б) кровоизлияние;
 в) головокружение;
г) деформация в месте повреждения;
 д) резкая общая слабость

12. Костер «колодец» рационально использовать для:

- а) приготовления пищи;
б) обогрева;
 в) сушки вещей;
г) ночлега

13. К боеприпасам относятся:

- f а) порох;
б) гильзы;
 в) баллистические ракеты;
 г) торпеды;
д) беспилотные летательные аппараты

13. Походный строй может быть:

- f а) одношереножным;
б) двухшереножным;
 в) в колонну по одному;
 г) в колонну по четыре;
д) разомкнутым

14. В состав суточного наряда по роте входят:

- f а) выводной;
 б) дежурный;
 в) помощник дежурного;
 г) дневальный;
д) разводящий

15. К преступлениям против общественной безопасности относится:

- а) вандализм;
 б) вооружённый мятеж;
 в) захват заложника;
г) мародёрство;

125.

Теоретические задания открытого типа.

1. Перечислите признаки возможного наличия взрывных устройств.

- Жеркессе Киргисси
- 1) Напишите на празднике провадов, Зеревои, Удалента.
 - 2) Подсчитайте здыжи (ценканы, мшканы)
 - 3) Подсчитайте здыжи мшканы, здыжи здыжи здыжи здыжи

68

Максимальный балл – 10 б.

2. Из воды извлекли ребенка 6 лет. Время нахождения под водой – не более 5–7 минут. Пульс не прощупывается, отсутствие признаков дыхания. Опишите алгоритм оказания первой помощи

Максимальный балл - 10 б.

3. Заполните пустые ячейки таблицы снизу, вверх, в порядке старшинства.

СУХОПУТНЫЕ ВОЙСКА	ВМФ
Рядовой +	Матрос
Ефрейтор	Ст. матрос +
Мл. сержант	Старшина 2 статьи +
Сержант +	Старшина 1 статьи
Ст. сержант	Главный старшина +
Старшина	Гл. Карабачаго Старшина +
Прапорщик +	Мичман
Ст. прапорщик	Ст. Мичман +
Мл. лейтенант	Мл. лейтенант +
Лейтенант +	Лейтенант
Ст. лейтенант	Ст. лейтенант +
Капитан +	Капитан-лейтенант
Майор	Капитан 3-го ранга +
Подполковник	Капитан 2-го ранга +
Полковник +	Капитан 1 ранга
Генерал-майор +	Контр-адмирал
Генерал-лейтенант	Вице-адмирал +
Генерал-полковник +	Адмирал
Генерал армии	Адмирал ордена +
Маршал РФ	

Максимальный балл – 20б.

205.

568

Всероссийская олимпиада
по ОБЖ

Сатибаева Жидара Батирбековича

2011 г. 1 июня

8 класс

675

1 ч. 1, 2, 3 +

2. Всегда старайтесь избегать опасных
ситуаций. +

3. Фикс перекус, логот, обезболивающий,
вода, вата, пластырь. +

5. С 16 лет в направиении против машин. —
Известная часть 2/5.

1 в + 12 а + 25

2 б — 13 г —

3 б + 14 д + 25

4 в + 15 а + 25

5 б +

6 в +

7 а +

8 б +

9 б +

10 а +

11 а б в г +

465.

Всероссийская олимпиада

по технологии

ученика 6 Б класса

МБОУ СОШ №2

г. Канска

Свиридова Влада

№1

655

Опасная ситуация - это 4 аспекта, в которой действуют

+ 1 факторы различной природы, угрожающие 2 жизни человека, и его 3 и среди войтание.

№2

+ Всегда старайся стараться из-за делать опасные ситуации.

№3

01, 02, 03, 04, 04, 112 —

✓
+ ¹⁴ Бит, перепись, маж, класть, ~~дога~~
6) медицинский журнал, оеэоашвароуе.
15

- С 16 лет в ^анаправлении против
машины.

16
Шестовая часть

- 17 +
- ~~28~~ 28 -
- 31 +
- 41 +
- 51 +
- 61 +
- 7a +
- 81 +
- 9e +
- 101a +

110 ~~g~~ & σ b, c, g. +

120 -

131 g -

141 σ + 2

151 σ + 2

44

181

Составе купона. Дивиденды

1 - а - 2	+			
б - 3	+			
б - 4	+			
г - 1	+			
г - 5	+			
д - 9	+			
ме - 1	-			
з - 6	+			
н - 8	+			
к - 10	+			

9 д.

2 - 1 - Держатель	+			
2 - купон	+			
3 - а - б - в - г - д - е - ж - з - и - к - л - м - н - о - п - р - с - т - у - ф - х - ц - ч - ш - щ - э - ю - я	-			
4 - неуплат	-			
5 - держатель неуплат	-			
3 - Держатель		купон	+	
Реструк		Менедж	+	
Принципал		Купон	+	

4 д.

10 д.

1) ~~1, 2, 3, 4~~ 3, 7, 2, 5, 4.

6 д.

- 1) - б +
- 2) - б +
- 3) - а +
- 4) - г -
- 5) - б -
- 6) - б -
- 7) - а +
- 8) - а +
- 9) - г +
- 10) - б +
- 11) - а, б, г, д, е, ж, з, и, к, л, м, н, о, п, р, с, т, у, ф, х, ц, ч, ш, щ, э, ю, я
- 12) а, б, в, г, д, е, ж, з, и, к, л, м, н, о, п, р, с, т, у, ф, х, ц, ч, ш, щ, э, ю, я
- 13) - а, г, д, е, ж, з, и, к, л, м, н, о, п, р, с, т, у, ф, х, ц, ч, ш, щ, э, ю, я
- 14) а, б, в, г, д, е, ж, з, и, к, л, м, н, о, п, р, с, т, у, ф, х, ц, ч, ш, щ, э, ю, я
- 15) - а, б, в, г, д, е, ж, з, и, к, л, м, н, о, п, р, с, т, у, ф, х, ц, ч, ш, щ, э, ю, я

28 д.

1. Отметьте правильные действия при оказании доврачебной помощи при носовом кровотечении

- f
- а) Голову пострадавшего наклоняют вперед, а на нос в область переносицы прикладывают холод.
 - б) На рану накладывают стерильную салфетку, далее толстый слой ваты и все это фиксируют одной из специальных повязок.
 - в) Если пострадавший находится без сознания, то его укладывают на бок и транспортируют в этом же положении.
 - г) Для ослабления кровотечения накладывается пластырь с тампоном, пострадавший укладывается на спину и транспортируется в лечебное учреждение

2. Если во время движения на маршруте вы заблудились и не можете найти свои следы, то необходимо:

- f
- а) остановиться и оценить ситуацию, искать тропу или дорогу, ручей или реку;
 - б) найти возвышенное место и оглядеться, а затем двигаться в направлении захода солнца;
 - в) прислушаться к звукам, чтобы потом двигаться подальше от дорог или рек;
 - г) найти созвездие Ориона и по его Полярной звезде искать север.

3. Как называют крупную аварию, повлекшую за собой человеческие жертвы, значительный материальный ущерб и другие тяжелые последствия?

-
- а) производственная катастрофа
 - б) производственное бедствие
 - в) производственная авария;
 - г) производственный риск.

4. При аварии на химически опасном объекте произошла утечка хлора. Нужно срочно покинуть:

- f
- а) площади.
 - б) широкие улицы.
 - в) низкие места.
 - г) верхние этажи.

5. Как называется удаление радиоактивных веществ с заражённых объектов, которое исключает поражение людей и обеспечивает их безопасность:

-
- а) санитарная обработка.
 - б) дезактивация.
 - в) дезинфекция.
 - г) дегазация.

6. Граждане Российской Федерации за осуществление террористической деятельности несут

- f
- а) административную ответственность
 - б) уголовную ответственность
 - в) гражданско-правовую ответственность
 - г) материальную ответственность

7. Укажите явный признак венозного кровотечения:

- f
- а) кровь вытекает пульсирующей струёй.
 - б) кровь пассивно истекает из раны.
 - в) кровь имеет алый цвет.

8. Какой узел является схватывающим?

- а) стремя

- f а) прусик
- в) проводник
- г) штык

9. С какого мероприятия начинается оказание первой помощи пострадавшему?

- а) определение состояния пострадавшего
- f б) выполнение обзорного осмотра пострадавшего
- в) выполнение подробного осмотра пострадавшего
- г) оценка обстановки и создание безопасных условий для оказания первой помощи

10. В случае получения ранения проводится экстренная иммунопрофилактика следующего инфекционного заболевания:

- f а) полиомиелит;
- б) столбняк;
- в) сибирская язва;
- г) туберкулез

165-

Определите все правильные ответы.
За правильный ответ начисляется 3 балла.

11. К общим признакам острой кровопотери относятся:

- а) боль в месте травмы;
- б) кровоизлияние;
- f в) головокружение;
- г) деформация в месте повреждения;
- д) резкая общая слабость

12. Костер «колодец» рационально использовать для:

- а) приготовления пищи;
- б) обогрева;
- в) сушки вещей;
- г) ночлега

13. К боеприпасам относятся:

- а) порох;
- б) гильзы;
- f в) баллистические ракеты;
- г) торпеды;
- д) беспилотные летательные аппараты

13. Походный строй может быть:

- а) одношереножным;
- б) двухшереножным;
- f в) в колонну по одному;
- г) в колонну по четыре;
- д) разомкнутым

14. В состав суточного наряда по роте входят:

- а) выводной;
- f б) дежурный;
- в) помощник дежурного;
- г) дневальный;
- д) разводящий

15. К преступлениям против общественной безопасности относится:

- а) вандализм;
- б) вооружённый мятеж;
- в) захват заложника;
- г) мародёрство;

125-

Теоретические задания открытого типа.

1. Перечислите признаки возможного наличия взрывных устройств.

Калишк на предмет проводов и изоляции, f

Тобочков Санор
 подозрительные звуки тиканье, запах миндаля +

45.

Максимальный балл – 10 б.

2. Из воды извлекли ребенка 6 лет. Время нахождения под водой – не более 5–7 минут. Пульс не прощупывается, отсутствие признаков дыхания. Опишите алгоритм оказания первой помощи

Максимальный балл - 10 б.

3. Заполните пустые ячейки таблицы снизу, вверх, в порядке старшинства.

СУХОПУТНЫЕ ВОЙСКА	ВМФ
Рядовой +	Матрос
Ефрейтор	Ст. матрос +
Мл. сержант	Старшина 2 статьи +
Сержант +	Старшина 1 статьи
Ст. сержант	Главный старшина +
Старшина	Гл. карьерский старшина +
Прапорщик +	Мичман
Ст. прапорщик	Ст. мичман +
Мл. лейтенант	Мл. лейтенант +
Лейтенант +	Лейтенант
Ст. лейтенант	Ст. лейтенант +
Капитан +	Капитан-лейтенант +
Майор	Капитан 3 ранга +
Подполковник	Капитан 2 ранга +
полковник +	Капитан 1 ранга
Генерал-майор +	Контр-адмирал
Генерал-лейтенант	Вице-адмирал +
Генерал-полковник +	Адмирал
Генерал армии	Адмирал флота +
Маршал РФ	

Максимальный балл – 20б.

20б.

52б

ЗАДАНИЯ ТЕОРЕТИЧЕСКОГО ТУРА

№ п/п	Открытые задания	Макс. балл	Кол-во набранных баллов
1	<p>Вставьте пропущенные слова: Опасная ситуация – это <u>неблагоприятная</u> обстановка, в которой действуют <u>различные</u> факторы различной природы, угрожающие <u>здоровью</u> жизни человека, его <u>здоровью</u> и среде обитания. (1.вредные, 2.здоровью, 3.имуществу, 4.неблагоприятная)</p>	8	8
2	<p>Расставьте правильно последовательность букв, и вы узнаете одно из основополагающих правил безопасности:</p> <p>г с е в д а ь т с р а т с а я <u>в с в з д а</u> <u>е т р а т с а</u></p> <p>и з б е з а т ь с п а о н ы х <u>и з б е з а т ь</u> <u>о т о с н ы х</u></p> <p>и й т у а с й и <u>с и т у а ц и и</u></p>	8	8
3	<p>Укажите <u>единый номер</u> вызова экстренных оперативных служб и порядок сообщения информации в экстренную оперативную службу: <u>03, 02, 01, 04.</u></p>	8	8
4	<p>Собираясь в любой поход, надо обязательно взять с собой аптечку первой помощи. Что нужно собрать в аптечке первой помощи? <u>бинт, ватный тампон, йод.</u></p>	8	8
5	<p>Велосипедист – полноправный участник дорожного движения. С какого возраста велосипедисту разрешается двигаться по проезжей части и в каком направлении по отношению к движущемуся транспорту? <u>с 14 лет велосипедист должен ехать навстречу движущемуся транспорту</u></p>	8	8

№ п/п	Тестовые задания	Макс. балл	Кол-во набранных баллов
Определите один правильный ответ			

26
36
62































- Б. с молочным оттенком
- В. прозрачный, с фиолетовым оттенком
- Г. мутный, с серым оттенком

Определите все правильные ответы

11.	<p>Укажите последовательность разведения костра.</p> <p>А. в любой последовательности</p> <p><input checked="" type="checkbox"/> Б. заготовить растопку (мелкие сухие веточки, дрова)</p> <p>В. поджечь костер 2-3 спичками</p> <p>Г. проложить на растопку мелкие ветки, поверх веток положить поленья</p>	4	—
12.	<p>Укажите, какой вред может нанести пожар организму человека, находящегося в горящем помещении</p> <p><input checked="" type="checkbox"/> А. Получение ожогов</p> <p>Б. Удушение</p> <p>В. Сгорание одежды</p>	4	—
13.	<p>Какие известны основные способы ориентирования на местности?</p> <p>А. По памяти</p> <p>Б. По растениям</p> <p>В. По небесным светилам</p> <p>Г. По компасу</p> <p><input checked="" type="checkbox"/> Д. По признакам местных предметов</p>	4	—
14.	<p>При возникновении пожара вам нужно покинуть квартиру, находящуюся на 10-м этаже. Вы:</p> <p>А. воспользуетесь лифтом</p> <p>Б. спуститесь по внешним или внутренним пожарным лестницам</p> <p><input checked="" type="checkbox"/> В. прикрывая дыхательные органы рукой, выйдете через подъезд</p>	4	2
15.	<p>При оказании первой помощи при солнечном ударе, необходимо:</p> <p><input checked="" type="checkbox"/> А. перенести пострадавшего в прохладное место, в тень</p> <p>Б. уложить на спину, приподнять голову и повернуть ее набок</p> <p>В. дать попить прохладной воды</p>	4	2
	ИТОГ	60	

--	--	--	--

ЗАДАНИЯ ТЕОРЕТИЧЕСКОГО ТУРА

№ п/п	Открытые задания	Макс. балл	Кол-во набранных баллов																																								
1	<p>Соотнесите названия знаков с их значением.</p> <table border="1"> <tr> <td>А —</td> <td> 3</td> <td>1</td> <td>Пересечение с велосипедной дорожкой или велопешеходной дорожкой</td> </tr> <tr> <td>Б —</td> <td> 4</td> <td>2</td> <td>Однопутная железная дорога</td> </tr> <tr> <td>В —</td> <td> 7</td> <td>3</td> <td>Светофорное регулирование</td> </tr> <tr> <td>Г +</td> <td> ← 1</td> <td>4</td> <td>Крутой спуск</td> </tr> <tr> <td>Д +</td> <td> ← 5</td> <td>5</td> <td>Тоннель</td> </tr> <tr> <td>Е +</td> <td> ← 9</td> <td>6</td> <td>Больница</td> </tr> <tr> <td>Ж ?</td> <td></td> <td>7</td> <td>Жилая зона</td> </tr> <tr> <td>З —</td> <td> ← 10</td> <td>8</td> <td>Место отдыха</td> </tr> <tr> <td>И +</td> <td> ← 8</td> <td>9</td> <td>Пешеходная и велосипедная дорожка с разделением движения</td> </tr> <tr> <td>К —</td> <td> ← 6</td> <td>10</td> <td>Пункт медицинской помощи</td> </tr> </table>	А —	 3	1	Пересечение с велосипедной дорожкой или велопешеходной дорожкой	Б —	 4	2	Однопутная железная дорога	В —	 7	3	Светофорное регулирование	Г +	 ← 1	4	Крутой спуск	Д +	 ← 5	5	Тоннель	Е +	 ← 9	6	Больница	Ж ?		7	Жилая зона	З —	 ← 10	8	Место отдыха	И +	 ← 8	9	Пешеходная и велосипедная дорожка с разделением движения	К —	 ← 6	10	Пункт медицинской помощи	10	4
А —	 3	1	Пересечение с велосипедной дорожкой или велопешеходной дорожкой																																								
Б —	 4	2	Однопутная железная дорога																																								
В —	 7	3	Светофорное регулирование																																								
Г +	 ← 1	4	Крутой спуск																																								
Д +	 ← 5	5	Тоннель																																								
Е +	 ← 9	6	Больница																																								
Ж ?		7	Жилая зона																																								
З —	 ← 10	8	Место отдыха																																								
И +	 ← 8	9	Пешеходная и велосипедная дорожка с разделением движения																																								
К —	 ← 6	10	Пункт медицинской помощи																																								
2	<p>Дополните рекомендации по безопасному поведению при землетрясении:</p> <ul style="list-style-type: none"> — оставаясь в квартире, следует занять относительно <u>близкого</u> (1) место (проёмы дверей, места возле опорных колонн, под столом, кроватью); — находясь в школе, надо укрыться <u>за партой</u> (2), отвернуться от окон и закрыть лицо и голову руками; — в любом здании следует держаться дальше от <u>дверей</u> (3), ближе к внутренним капитальным стенам; — при прекращении толчков надо немедленно покинуть здание; покидая здание, нельзя пользоваться <u>лестницей</u> (4), спускаться можно только по <u>эскалатору</u> (5); <u>или</u> — — в любой сложившейся обстановке действовать надо уверенно, не допуская излишней спешки и суеты. 	10	4																																								

Для своевременного информирования населения о возникновении угрозы террористического акта и организации деятельности по противодействию его совершению на территории Российской Федерации могут устанавливаться уровни террористической опасности. А. Впишите в таблицу в порядке возрастания уровни террористической опасности. Б. Укажите в таблице цветное обозначение каждого уровня террористической опасности.

10 10

Ответ:

Уровни террористической опасности	Цветовое обозначение уровней террористической опасности
Крымский +	Красный +
Высокий +	Желтый +
Повышенный +	Синий +

4

Вы увидели, как турист упал с обрыва и ударился животом о камень. Удар пришёлся в левое подреберье. Пострадавший жалуется на боли в животе, слабость, головокружение. При осмотре отмечается бледность кожных покровов, частый слабый пульс.

10 10

Расставьте мероприятия первой помощи в очередности их выполнения

+ 7	Выполнить подробный осмотр пострадавшего (выявить болезненность области живота).
+ 2	Провести обзорный осмотр пострадавшего на наличие наружного кровотечения (убедиться в его отсутствии).
+ 7	Оценить обстановку, убедиться в безопасности оказания первой помощи.
+ 5	Оказать пострадавшему психологическую помощь (разговаривать с пострадавшим до приезда скорой медицинской помощи (СМП)), передать пострадавшего бригаде СМП.
+ 7	Придать пострадавшему оптимальное положение тела, приложить холодк животу (по возможности), вызвать скорую медицинскую помощь.

ИТОГ

40 24

№ п/п	Тестовые задания	Макс. балл	Кол-во набранных баллов

30

Определите один правильный ответ			
1.	Какого числа отмечается день солидарности в борьбе с терроризмом? а) 2 октября; б) 3 сентября; в) 7 ноября; г) 3 октября.	4	2
2.	Считается, что от английского словосочетания «Save Our Souls» произошёл международный сигнал а) оповещения о цунами; б) бедствия; в) срочности; г) оповещения о землетрясении.	4	0
3.	Единым номером вызова экстренных оперативных служб является а) 1-1-2 б) 1-0-3 в) 1-1-1 г) 1-0-4	4	2
4.	Участник дорожного движения – это: а) лицо, принимающее непосредственное участие в процессе движения в качестве водителя транспортного средства; б) лицо, принимающее непосредственное участие в процессе движения в качестве водителя или пассажира транспортного средства; в) лицо, принимающее непосредственное участие в процессе движения в качестве водителя, пешехода, пассажира транспортного средства; г) лицо, принимающее непосредственное участие в процессе движения в качестве пешехода и пассажира транспортного средства	4	2
5.	Интенсивность землетрясения оценивают по шкале а) Рихтера; б) Бофорта; в) Меркалли; г) Саффира-Симпсона.	4	2
6.	Что относится к артериальному кровотечению: а) кровь имеет темный цвет, не пульсирует, вытекает из раны спокойно и непрерывно; б) кровь сочится по всей поверхности раны и ее трудно остановить; в) кровь алого цвета вытекает из раны пульсирующей струей;	4	2
7.	В случае отсутствия пешеходных дорожек и тротуаров пешеходу разрешается передвигаться по обочине. Как должен передвигаться пешеход по обочине? а) навстречу движению транспорта б) параллельно движению транспорта в) по ходу движения транспорта	4	0
8.	Какой уровень террористической опасности обозначается красным цветом? а) критический б) повышенный в) высокий г) чрезвычайный	4	2































9.	Какой газ тяжелее воздуха, желто-зеленого цвета, вызывает грудную боль, кашель, резь в глазах? <input checked="" type="radio"/> а) сероводород; б) аммиак; в) фосген. г) хлор;	4	0
10.	Верны ли следующие суждения о правилах наложения кровоостанавливающего жгута? А. Кровоостанавливающий жгут применяют только для остановки артериального кровотечения. Б. Кровоостанавливающий жгут накладывают только на плечо и бедро. <input checked="" type="radio"/> а) верно только А; б) верно только Б; в) верны оба суждения; г) оба суждения неверны.	4	0
Определите все правильные ответы			
11.	Что из перечисленного относится к опасным факторам пожара, воздействующим на людей и имущество? <input checked="" type="radio"/> а) снижение видимости в дыму; б) осколки; в) повышенная температура окружающей среды; <input checked="" type="radio"/> г) радиоактивные и токсичные вещества и материалы, попавшие в окружающую среду; д) воздействие огнетушащих веществ.	4	0
12.	Прочным считается лёд с а) зеленоватым оттенком <input checked="" type="radio"/> б) молочным оттенком в) синеватым оттенком г) серым оттенком д) фиолетовым оттенком	4	0
13.	Какое влияние оказывает никотин на организм человека? <input checked="" type="radio"/> а) вызывает сужение сосудов б) улучшает кровоснабжение внутренних органов в) вызывает развитие злокачественных новообразований г) в низких дозах возбуждает, в высоких – угнетает ЦНС д) не вызывает привыкания	4	2
14.	К закрытым механическим травмам относят <input checked="" type="radio"/> а) ушибы б) растяжения в) отравления г) ожоги д) отморожения	4	1
15.	Какие узлы рекомендуется использовать для закрепления веревок к опоре? <input checked="" type="radio"/> а) булинь б) грейпвайн в) «двойной проводник» г) прусик д) «штык»	4	2
	ИТОГ	60	18

18 + 56 = 74

745

--	--	--	--

ЗАДАНИЯ ТЕОРЕТИЧЕСКОГО ТУРА

№ п/п	Открытые задания	Макс. балл	Кол-во набранных баллов																																								
1	<p>Соотнесите названия знаков с их значением.</p> <table border="1"> <tr> <td>А</td> <td></td> <td>1</td> <td>Пересечение с велосипедной дорожкой или велопешеходной дорожкой</td> </tr> <tr> <td>Б</td> <td></td> <td>2</td> <td>Однопутная железная дорога</td> </tr> <tr> <td>В</td> <td></td> <td>3</td> <td>Светофорное регулирование</td> </tr> <tr> <td>Г</td> <td></td> <td>4</td> <td>Крутой спуск</td> </tr> <tr> <td>Д</td> <td></td> <td>5</td> <td>Тоннель</td> </tr> <tr> <td>Е</td> <td></td> <td>6</td> <td>Больница</td> </tr> <tr> <td>Ж</td> <td></td> <td>7</td> <td>Жилая зона</td> </tr> <tr> <td>З</td> <td></td> <td>8</td> <td>Место отдыха</td> </tr> <tr> <td>И</td> <td></td> <td>9</td> <td>Пешеходная и велосипедная дорожка с разделением движения</td> </tr> <tr> <td>К</td> <td></td> <td>10</td> <td>Пункт медицинской помощи</td> </tr> </table>	А		1	Пересечение с велосипедной дорожкой или велопешеходной дорожкой	Б		2	Однопутная железная дорога	В		3	Светофорное регулирование	Г		4	Крутой спуск	Д		5	Тоннель	Е		6	Больница	Ж		7	Жилая зона	З		8	Место отдыха	И		9	Пешеходная и велосипедная дорожка с разделением движения	К		10	Пункт медицинской помощи	10	6
А		1	Пересечение с велосипедной дорожкой или велопешеходной дорожкой																																								
Б		2	Однопутная железная дорога																																								
В		3	Светофорное регулирование																																								
Г		4	Крутой спуск																																								
Д		5	Тоннель																																								
Е		6	Больница																																								
Ж		7	Жилая зона																																								
З		8	Место отдыха																																								
И		9	Пешеходная и велосипедная дорожка с разделением движения																																								
К		10	Пункт медицинской помощи																																								
2	<p>Дополните рекомендации по безопасному поведению при землетрясении:</p> <ul style="list-style-type: none"> – оставаясь в квартире, следует занять относительно <u>безопасное</u> (1) место (проёмы дверей, места возле опорных колонн, под столом, кроватью); – находясь в школе, надо укрыться <u>картами</u> (2), отвернуться от окон и закрыть лицо и голову руками; – в любом здании следует держаться дальше от <u>стеклянных ограждений</u> (3), ближе к внутренним капитальным стенам; – при прекращении толчков надо немедленно покинуть здание; покидая здание, нельзя пользоваться <u>лифтами</u> (4), спускаться можно только по <u>лестнице</u> (5); – в любой сложившейся обстановке действовать надо уверенно, не допуская излишней спешки и суеты. 	10	85																																								

Определите один правильный ответ

445	1.	Какого числа отмечается день солидарности в борьбе с терроризмом? а) 2 октября; + б) 3 сентября; в) 7 ноября; г) 3 октября.	4	
	2.	Считается, что от английского словосочетания «Save Our Souls» произошёл международный сигнал а) оповещения о цунами; + б) бедствия; в) срочности; г) оповещения о землетрясении.	4	
	3.	Единым номером вызова экстренных оперативных служб является + а) 1-1-2 б) 1-0-3 в) 1-1-1 г) 1-0-4	4	
	4.	Участник дорожного движения – это: а) лицо, принимающее непосредственное участие в процессе движения в качестве водителя транспортного средства; + б) лицо, принимающее непосредственное участие в процессе движения в качестве водителя или пассажира транспортного средства; в) лицо, принимающее непосредственное участие в процессе движения в качестве водителя, пешехода, пассажира транспортного средства; г) лицо, принимающее непосредственное участие в процессе движения в качестве пешехода и пассажира транспортного средства	4	
	5.	Интенсивность землетрясения оценивают по шкале + а) Рихтера; б) Бофорта; в) Меркалли; г) Саффира-Симпсона.	4	
	6.	Что относится к артериальному кровотечению: + а) кровь имеет темный цвет, не пульсирует, вытекает из раны спокойно и непрерывно; б) кровь сочится по всей поверхности раны и ее трудно остановить; в) кровь алого цвета вытекает из раны пульсирующей струей;	4	
	7.	В случае отсутствия пешеходных дорожек и тротуаров пешеходу разрешается передвигаться по обочине. Как должен передвигаться пешеход по обочине? + а) навстречу движению транспорта б) параллельно движению транспорта в) по ходу движения транспорта	4	
	8.	Какой уровень террористической опасности обозначается красным цветом? + а) критический б) повышенный в) высокий г) чрезвычайный	4	

9.	Какой газ тяжелее воздуха, желто-зеленого цвета, вызывает грудную боль, кашель, резь в глазах? а) сероводород; б) аммиак; в) фосген. г) хлор;	4	
10.	Верны ли следующие суждения о правилах наложения кровоостанавливающего жгута? А. Кровоостанавливающий жгут применяют только для остановки артериального кровотечения. Б. Кровоостанавливающий жгут накладывают только на плечо и бедро. а) верно только А; б) верно только Б; в) верны оба суждения; г) оба суждения неверны.	4	
Определите все правильные ответы			
11.	Что из перечисленного относится к опасным факторам пожара, воздействующим на людей и имущество? а) снижение видимости в дыму; б) осколки; в) повышенная температура окружающей среды; г) радиоактивные и токсичные вещества и материалы, попавшие в окружающую среду; д) воздействие огнетушащих веществ.	4	
12.	Прочным считается лёд с а) зеленоватым оттенком б) молочным оттенком в) синеватым оттенком г) серым оттенком д) фиолетовым оттенком	4	
13.	Какое влияние оказывает никотин на организм человека? а) вызывает сужение сосудов б) улучшает кровоснабжение внутренних органов в) вызывает развитие злокачественных новообразований г) в низких дозах возбуждает, в высоких – угнетает ЦНС д) не вызывает привыкания	4	
14.	К закрытым механическим травмам относят а) ушибы б) растяжения в) отравления г) ожоги д) отморожения	4	
15.	Какие узлы рекомендуется использовать для закрепления веревок к опоре? а) булинь б) грейпвайн в) «двойной проводник» г) прусик д) «штык»	4	
ИТОГ		60	

3	<p>Для своевременного информирования населения о возникновении угрозы террористического акта и организации деятельности по противодействию его совершению на территории Российской Федерации могут устанавливаться уровни террористической опасности.</p> <p>А. Впишите в таблицу в порядке возрастания уровни террористической опасности.</p> <p>Б. Укажите в таблице цветное обозначение каждого уровня террористической опасности.</p> <p>Ответ:</p>	10											
<table border="1" style="margin: auto; border-collapse: collapse;"> <thead> <tr> <th style="padding: 5px;">Уровни террористической опасности</th> <th style="padding: 5px;">Цветовое обозначение уровней террористической опасности</th> </tr> </thead> <tbody> <tr> <td style="text-align: center; padding: 5px;"><i>Повышенный</i></td> <td style="text-align: center; padding: 5px;"><i>Синий</i></td> </tr> <tr> <td style="text-align: center; padding: 5px;"><i>Высокий</i></td> <td style="text-align: center; padding: 5px;"><i>Желтый</i></td> </tr> <tr> <td style="text-align: center; padding: 5px;"><i>Критический</i></td> <td style="text-align: center; padding: 5px;"><i>Красный</i></td> </tr> </tbody> </table>		Уровни террористической опасности	Цветовое обозначение уровней террористической опасности	<i>Повышенный</i>	<i>Синий</i>	<i>Высокий</i>	<i>Желтый</i>	<i>Критический</i>	<i>Красный</i>		<i>100.</i>		
Уровни террористической опасности	Цветовое обозначение уровней террористической опасности												
<i>Повышенный</i>	<i>Синий</i>												
<i>Высокий</i>	<i>Желтый</i>												
<i>Критический</i>	<i>Красный</i>												
4	<p>Вы увидели, как турист упал с обрыва и ударился животом о камень. Удар пришёлся в левое подреберье. Пострадавший жалуется на боли в животе, слабость, головокружение. При осмотре отмечается бледность кожных покровов, частый слабый пульс.</p> <p>Расставьте мероприятия первой помощи в очередности их выполнения</p>	10											
<table border="1" style="margin: auto; border-collapse: collapse;"> <tbody> <tr> <td style="text-align: center; padding: 5px;"><i>3</i></td> <td style="padding: 5px;">Выполнить подробный осмотр пострадавшего (выявить болезненность в области живота).</td> </tr> <tr> <td style="text-align: center; padding: 5px;"><i>1</i></td> <td style="padding: 5px;">Провести обзорный осмотр пострадавшего на наличие наружного кровотечения (убедиться в его отсутствии).</td> </tr> <tr> <td style="text-align: center; padding: 5px;"><i>2</i></td> <td style="padding: 5px;">Оценить обстановку, убедиться в безопасности оказания первой помощи.</td> </tr> <tr> <td style="text-align: center; padding: 5px;"><i>5</i></td> <td style="padding: 5px;">Оказать пострадавшему психологическую помощь (разговаривать с пострадавшим до приезда скорой медицинской помощи (СМП)), передать пострадавшего бригаде СМП.</td> </tr> <tr> <td style="text-align: center; padding: 5px;"><i>4</i></td> <td style="padding: 5px;">Придать пострадавшему оптимальное положение тела, приложить холод к животу (по возможности), вызвать скорую медицинскую помощь.</td> </tr> </tbody> </table>		<i>3</i>	Выполнить подробный осмотр пострадавшего (выявить болезненность в области живота).	<i>1</i>	Провести обзорный осмотр пострадавшего на наличие наружного кровотечения (убедиться в его отсутствии).	<i>2</i>	Оценить обстановку, убедиться в безопасности оказания первой помощи.	<i>5</i>	Оказать пострадавшему психологическую помощь (разговаривать с пострадавшим до приезда скорой медицинской помощи (СМП)), передать пострадавшего бригаде СМП.	<i>4</i>	Придать пострадавшему оптимальное положение тела, приложить холод к животу (по возможности), вызвать скорую медицинскую помощь.		<i>65.</i>
<i>3</i>	Выполнить подробный осмотр пострадавшего (выявить болезненность в области живота).												
<i>1</i>	Провести обзорный осмотр пострадавшего на наличие наружного кровотечения (убедиться в его отсутствии).												
<i>2</i>	Оценить обстановку, убедиться в безопасности оказания первой помощи.												
<i>5</i>	Оказать пострадавшему психологическую помощь (разговаривать с пострадавшим до приезда скорой медицинской помощи (СМП)), передать пострадавшего бригаде СМП.												
<i>4</i>	Придать пострадавшему оптимальное положение тела, приложить холод к животу (по возможности), вызвать скорую медицинскую помощь.												
ИТОГ		40											

№ п/ п	Тестовые задания	Макс. балл	Кол-во набранн ых баллов